

**Olimpiada e Dytë e Vogël Matematikore 2023**  
**Shkup, 16.09.2023, Fakulteti i Makinerisë**  
**Klasa e parë**

1. Cili është numri më i madh që plotëson fjalinë e mëposhtme: "... është më pak se 15"?

- (A)  $8+7$       (B)  $15-3$       (C)  $17-4$       (D)  $7+7$       (E)  $8+3$

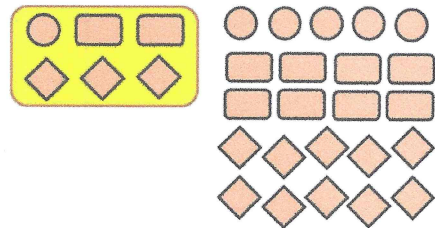
2. Janë shkruar numrat 1, 2, 3, 4, 5 në këtë renditje të lexuar përpara dhe mbrapa: 123454321234543... Cila është shifra e 31-të?

- (A) 1      (B) 2      (C) 3      (D) 4      (E) 5

3. Maria merrte lodra për çdo ditëlindje. Për ditëlindjen e parë - një arush pelushi, për të dytën - 2 arusha pelushi, etj., Për çdo ditëlindje pasuese një arush pelushi më shumë se ai i mëparshmi. Sa arusha pelushi ka gjithsej Maria nëse mbush 6 vjeç?

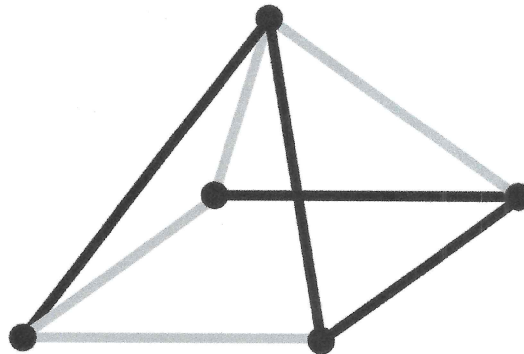
- (A) 19      (B) 20      (C) 21      (D) 22      (E) 23

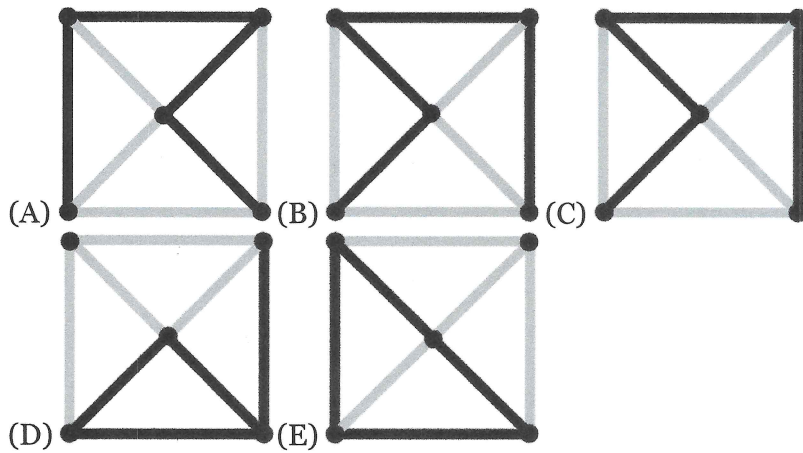
4. Goran bëri çokollata si në foto. Me to ai mbushi sa më shumë të njëjtat kuti si ajo e treguar. Cilat çokollata do të mbeten të papaketuara në një kuti?



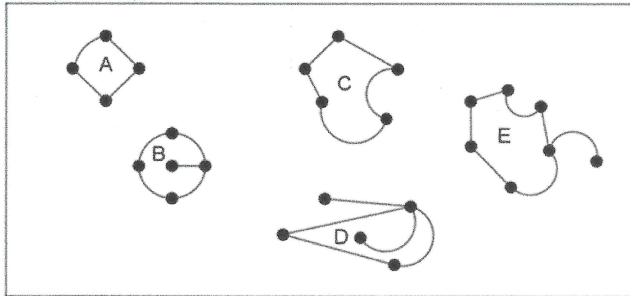
- (A)      (B)      (C)      (D)      (E)

5. Si duket objekti në figurë kur shihet nga lart?





6. Në foto shihni gjerdanin e Sofisë. Në tavolinë ka disa gjerdan. Cila është e Sofisë?



(A) A  
(D) D

(B) B  
(E) E



(C) C

7. Lile dëshiron të zgjedhë tre letra të ndryshme në mënyrë që shuma e tyre të jetë 13. Cili është numri më i madh që ajo mund të zgjedhë?



(A) 5      (B) 7      (C) 9      (D) 11      (E) 13



8.

(A) 10kg      (B) 12kg      (C) 13kg      (D) 15kg      (E) 18kg

Përgjigje

1	2	3	4	5	6	7	8