

Garë ndërkombëtare KENGUR 16.03.2017

Klasa e parë -Kategorija PreEcolier


Koha në disponim është 1h e 15 min.

Për përgjigje jo të saktë të pyetjes minusohet një e katërta e numrit të pikëve me të cilat vlerësohet kjo pyetje. Për të shmangur rezultat të përgjithshëm negativ në fund shtohen 10 pikë, kështu që sasia maksimale e pikëve të fituara është 50. Gjatë punës nuk lejohen kalkulatorët

Cdo detyrë vlerësohet me 4 pikë


1. Pesë maçokë Miri, Tani, Teuta, Edi dhe Sara po gjuanin peshk. Kush e kapi peshkun ?

- (A) Miri
(B) Tani
(C) Teuta
(D) Edi
(E) Sara



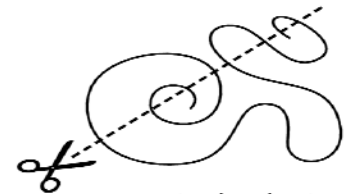
2. Në vizatimin djathtas janë dhënë yje me 5, 6 dhe 7 cepa .
Sa yje janë me 5 cepa?

- (A) 2 (B) 3 (C) 4
(D) 5 (E) 9




3. Në sa pjesë gërshtëra do ta presë litarin e treguar në vizatimin djathtas ?


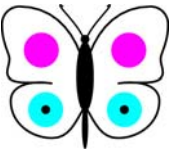


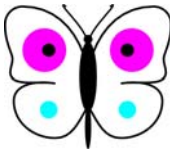
- (A) 5 (B) 6 (C) 7 (D) 8 (E) 9



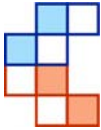
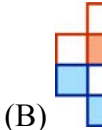
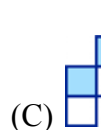


4. Mira ka gjashtë etiketa. . Ajo do ta zbukurojë fluturën e treguar në vizatimin djathtas.

Cilën prej fluturave të mëposhtme mund ta bëjë Mira?



- (A)  (B)  (C)  (D)  (E) 

5. Miri e rrotullon figurën e parë në vizatimin djathtas. Tre rrotullimet e para janë treguar në vizatim. Ai në të njëjtin drejtim e rrotulloi figurën saktësisht dhjetë herë. Në cilin pozicion është figura pas rrotullimit të dhjetë?

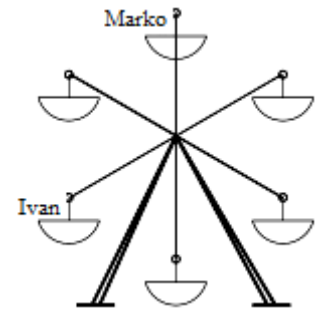
- (A)  (B)  (C)  (D)  (E) 

6. Katër prej numrave 1, 3, 4, 5 dhe 7 janë shfrytëzuar, nga një për çdo katror në vizatimin djathtas. Kështu është fituar barazim i saktë. Kush prej numrave nuk është shfrytëzuar?

$$\square + \square = \square + \square$$

- (A) 1 (B) 3 (C) 4 (D) 5 (E) 7

7. Marko dhe Ivani rrinin në ringishpill. Në një çast ringishpili është në pozicion si në vizatimin djathtas. Ringishpili u rrotullua dhe e zhvendosi Markon në vendin ku më parë ishte Ivani. Në cilin vend ishte Ivani në atë çast?



- (A) (B) (C) (D) (E)

8. Në cilin vizatim ka dardha numri i të cilave është i barabartë me gjysmën e numrit të karrotave dhe mollë numri i të cilave është dy herë më i madh se numri i karrotave ?

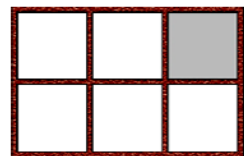
- (A) (B) (C) (D) (E)

9. Në fermën e gjysh Lulit ka një kal, dy lopë dhe tre derra. Edhe sa lopë i duhen gjysh Lulit, në mënyrë që gjysma e kafshëve të fermës të jenë lopë ?



- (A) 0 (B) 1 (C) 2 (D) 3 (E) 4

10. Marija vendosi gjashtë lodra në gjashtë vende në raftin e treguar në vizatimin djathtas. Ajo vuri re se lodrat ishin renditur kështu që :



është midis dhe

është djathtas lart nga

është majtas nga dhe djathtas nga

Cila lodër është në ndarjen me ngjyrë gri të raftit?

- (A) (B) (C) (D) (E)