


**24 МАРТ 2011**  
**1, 2 И 3 ОДДЕЛЕНИЕ**

**Тестот се работи за време од 1h и 15 min.**  
**Заокружи го точниот одговор.**

1. Колку пеперутки треба да се доцртаат, за да на сликата има еднаков број на пеперутки и кенгурчиња?



(А) не треба да се доцртува      (Б) 1      (В) 2      (Г) 3      (Д) 4

2. Блаже сака да го обои зборот КЕНГУРЧЕ. Тој бои по една буква секој ден од неделата. Ако со боењето започнал во среда, во кој ден ќе ја обои последната буква?

(А) Понеделник      (Б) Вторник      (В) Среда      (Г) Четврток      (Д) Петок

3. Симеон има 2 сестри и 2 браќа. По колку браќа има секоја од сестрите на Симеон?

(А) 1      (Б) 2      (В) 3      (Г) 4      (Д) 5

4. Весна има сликички со броевите од 3 до 12. Колку вкупно цифри имаат броевите на сликичките?

(А) 12      (Б) 13      (В) 15      (Г) 18      (Д) 19

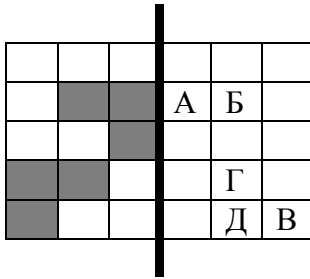
5. Марко живее со мајка му, татко му и брат му. Дома имаат куче, мачка, два папагали и три аквариумски риби. Колку вкупно нозе имаат сите што живеат во куќата на Марко?



(А) 19      (Б) 20      (В) 21      (Г) 22      (Д) 23

6. Ана, Биле, Вики, Гордан и Диме имаат црвена, жолта и зелена јаболка и сина и жолта слива. Секое дете има точно по еден плод. Вики и Диме имаат еднакви по вид плодови. Ана и Гордан имаат еднакви по боја плодови. Каква боја има плодот на Биле?

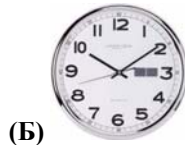

(А) црвена      (Б) жолта      (В) зелена      (Г) сина      (Д) шарена



7. Ако листот го превиткаме по задебелената линија, која буква нема да биде покриена со сиво квадратче?

- (А) А      (Б) Б      (В) В      (Г) Г      (Д) Д

8. Филип излегол од дома во 9 часот и 35 минути. По четириесет и пет минути се вратил дома. Во колку часот се вратил дома?



9. Три моливи чинат колку што чинат два моливи и една гума. Пет острилки чинат колку четири острилки и молив. Колку острилки чинат колку 20 гуми?

- (А) 19      (Б) 20      (В) 21      (Г) 22      (Д) 23



10. Снежана набрала 5 јаболки, 3 круши и 9 малини. Уште колку јаболки, круши и малини треба да набере Снежана, за да секое цуце добие по едно јаболко, по една круша и по две малини?

- (А) 1 јаболко, 3 круши и 8 малини  
 (Б) 5 јаболки, 3 круши и 1 малина  
 (В) 2 јаболки, 4 круши и 5 малини  
 (Г) 2 јаболки, 1 круша и 7 малини  
 (Д) друг одговор