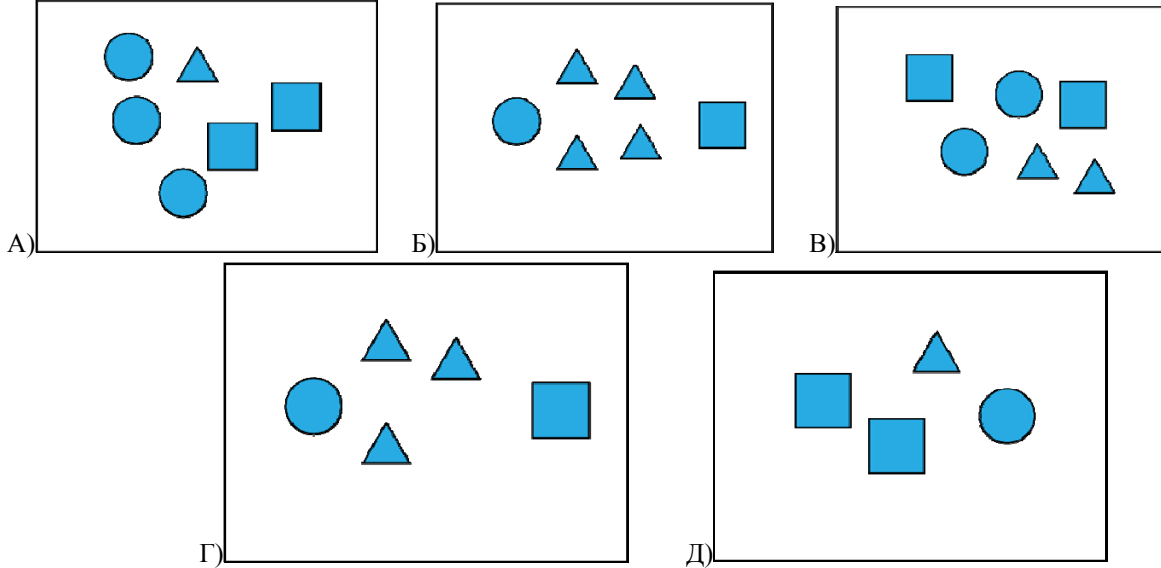




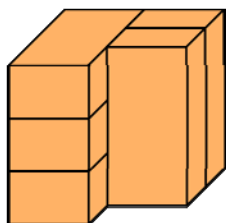
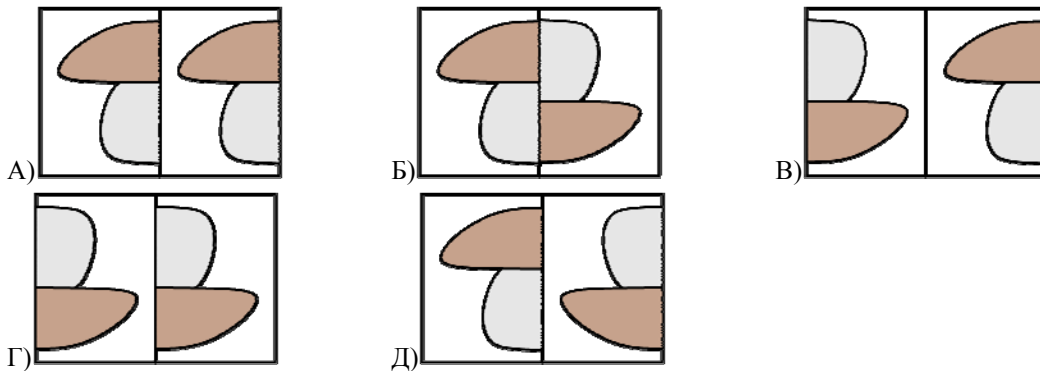
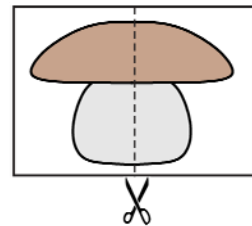
Тестот се работи за време од 1h и 15 min.

За неточен одговор на прашање се одзема една четвртина од бројот на поени со кое тоа прашање се вреднува. За да се избегне вкупен негативен резултат на крајот се додаваат 25 поени, така што максималниот можен број на освоени поени е 120. При работата калкулатори не се дозволени.

1. На кој од цртежите има најмногу триаголници?



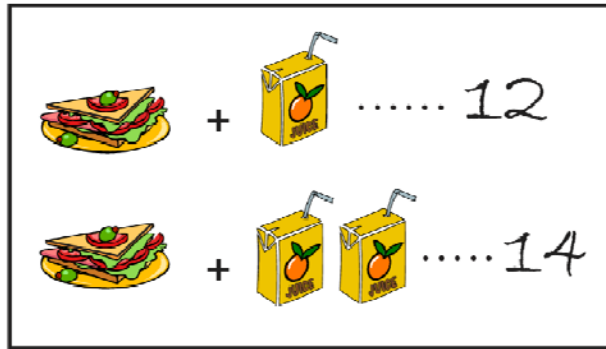
2. Дамјан, цртежот на десно го преполовил (го поделил на два дела), како што е прикажано. Потоа двата дела ги споил (како во одговорите на задачата). Кој од следниве одговори се двата споени дела на Дамјан?



3. На цртежот се дадени 5 идентични бетонски блока. Колку од нив допираат точно три од преостанатите блокови?

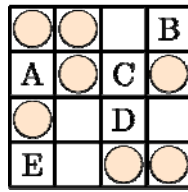
- A)1                      Б)2                      В)3                      Г)4                      Д)5

4. Еден сендвич и еден сок чинат 12 евра. Еден сендвич и два сока чинат 14 евра. Колку чини еден сок?



- A)1                      Б)2                      В)3                      Г)4                      Д)5

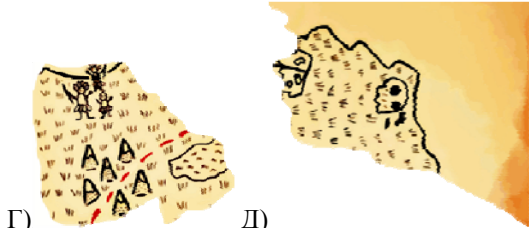
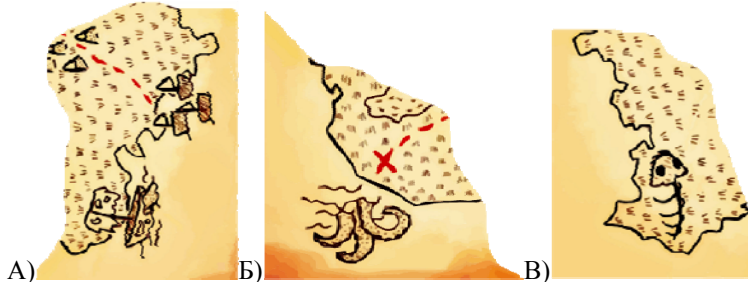
5. Мора да има две парички во секоја редица и во секоја колона од квадратната шема. Во кое поле треба да се постави последната паричка?




- A)A                      Б)B                      В)C                      Г)D                      Д)E

6. Мајмунчето на Капетан Џек, откинало парче од неговата карта. Фалеше овој дел


Кое парче фали од картата на Капетан Џек?




7. Петар имал четири делови од сложувалка, со кои може да формира квадрат. Кој цртеж ќе го добие Петар,



откога го формирал квадратот?



8. На Миле малку мастило му се истурило на парчето хартија, како што е прикажано на цртежот.



На колку од малите квадратчиња на хартијата има мастило?

А)16

Б)17

В)18

Г)19

Д)20

9. Кенгурчето ОПА-ОПА запишало еден број, а потоа врз секоја цифра залепило налепница. Над исти цифри е залепена иста налепница, а над различни цифри залепена различна налепница. Кој од запишаните броеви може да се биде покриен со налепници како на цртежот?



А)34426

Б)34526

В)34423

Г) 34424

Д)32446

10. Во секоја корпа спие по едно животно. Коалата и лисицата спијат во корпи кои имаат иста форма и шара.



basket 1



basket 2



basket 3



basket 4



basket 5

Кенгурчето и нојот имаат иста боја и шара на нивните корпи. Во која корпа спие кученцето? ODGOVORI

А)корпа 1

Б)корпа 2

В)корпа 3

Г)корпа 4

Д)корпа 5